

7-8 классы

Тестовый тур

Время выполнения работы – 30 мин. Количество баллов - 20

Правильные ответы подчеркните

1. Антарктида – это...

- А. Дрейфующий лед Б. Остров, покрытый льдом В. Материк Г. Айсберг

2. В честь какого путешественника Новый Свет назвали Америкой?

- А. Веспуччи Б. Колумба В. Магеллана Г. Васко да Гамы

3. Из оболочек атмосферы наибольшее влияние на природу Земли оказывает:

- А. Стратосфера Б. Мезосфера В. Термосфера Г. Тропосфера

4. Определите лишнее слово в логическом ряду:

- А. Пальма Б. Джунгли В. Секвойя Г. Лиственница

5. Правильно ли определен состав гидросферы?

Поверхностные воды (реки, озера, болота) – 96%

Льды и снега – 2%

Мировой океан – менее 2%

Подземные воды – 0,02%

- А. Верно Б. Неверно

6. Каков масштаб карты, если расстояние на карте 3 см, а на местности равно 6 км?

- А. 1:2 000 Б. 1:200 000 В. 1:2 000 000 Г. 1:20 000

7. Выберите реку, у которой половодье вызвано муссонными дождями:

- А. Колорадо Б. Амазонка В. Нигер Г. Амур

8. Какая из групп растительности произрастает в саваннах?

- А. Алоэ, баобаб, мимоза, молочай Б. Польшь, типчак, ковыль, бутылочное дерево
В. Пушица, голубика, мох, карликовая березка Г. Солянка, акация, саксаул, финиковая пальма

9. Почему в Австралии нет действующих вулканов и ледников?

А. Австралия расположена в южном полушарии

 Б. В основании материка лежит древняя платформа, нет зон современного горообразования и нет высоких гор

В. Австралия ранее всех материков откололась от древнего материка Гондваны

Г. Природа материка формировалась изолировано от других материков

10. Какая из рек не впадает в Атлантический океан?

- А. Нил Б. Миссисипи В. Волга Г. По

11. Как называется линия, проходящая по 23,5° ю. ш.?

- А. Южный тропик Б. Гринвичский меридиан В. Экватор Г. Полярный круг

12. Выберите единственное полностью правильное сочетание:

А. Тропический климат – саванны – чернозёмы

Б. Субарктический климат – тундра – глеевые почвы

В. Умеренный резко континентальный климат – степи – каштановые почвы

 Г. Умеренно континентальный климат – полупустыня – подзолистые почвы

13. Высшая точка территории Российской Федерации – это...

- А. Народная Б. Ключевская сопка В. Белуха Г. Эльбрус

14. Какое из морей Северного Ледовитого океана не омывает берега России?

- А. Баффина Б. Карское В. Восточно-Сибирское Г. Баренцево

15. На каких островах наблюдается самое большое количество осадков?

- А. Фиджи Б. Марианские В. Гавайи Г. Тонга

16. Какой природный объект Томской области имеет глобальное экологическое значение, являясь регулятором гидрологического режима стоков рек и гигантским фильтром-накопителем, поглощающим элементы из атмосферы?

- А. Озеро Мирное В. Пойма р. Оби
Б. Васюганское болото Г. Отроги Кузнецкого Алатау

17. Найдите соответствие:

Материк	Эндемик
1. Евразия	А. кенгуру
2. Африка	Б. бизон
3. Австралия	В. панда
4. Северная Америка	Г. слон

Ответ:

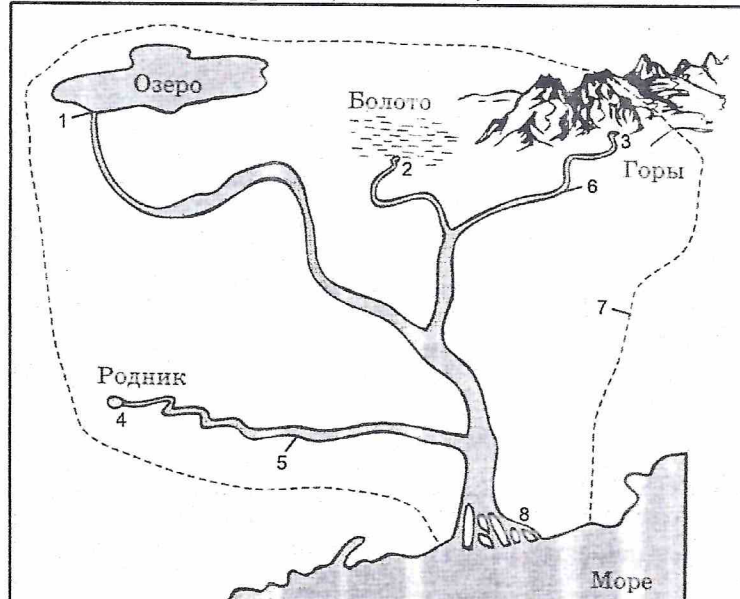
1 – Б 2 – Г 3 – А 4 – В 40

15 + 38 = 53

Теоретический тур
7-8 класс

Время выполнения работы – 60 мин., Количество баллов - 80

Задание 1. Перед вами схема речной системы, на которой цифрами обозначены ее элементы. Подпишите их и ответьте на вопросы (28 баллов).



Ответ:

- | | |
|------------------|---------------------------|
| 1 – <u>исток</u> | 5 – <u>приток</u> |
| 2 – <u>исток</u> | 6 – <u>приток</u> |
| 3 – <u>исток</u> | 7 – <u>речной бассейн</u> |
| 4 – <u>исток</u> | 8 – <u>устье</u> |

Бассейн реки – это _____

места где протекает река и её притоки
Водораздельная линия (водораздел) – это

Самая крупная река Томской области – это

Обь
Какой ее приток протекает по территории вашего района?
Иртыш, Тоца

Одна из самых длинных рек в России –

Обь
Назовите три крупные реки России Лена, Енисей, Обь

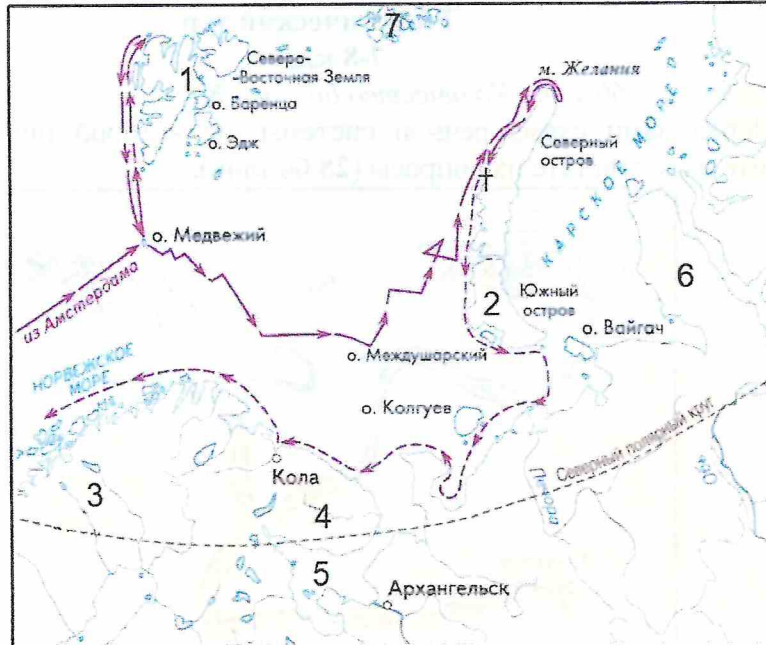
Впишите в таблицу три наиболее крупных реки, относящиеся к бассейнам каждого из океанов:

Океан	Реки
Тихий	<u>Кюсюк, Амур, Амур</u> 3,5
Атлантический	<u>Нева, Миссисипи, Амазонка</u> 3,5
Северный Ледовитый	<u>Лена, Енисей, Обь</u> 3,5
Индийский	<u>Ганг, Ямуна, Брахмапутра</u> 3,5

Задание 2. Определите путешественника, чей маршрут показан на карте и ответьте на дополнительные вопросы (20 баллов).

Школьный этап всероссийской олимпиады школьников по географии
в Томской области в 2024-2025 учебном году

ШИФР _____



Имя путешественника – _____
 В каком веке он осуществил свое путешествие? _____
 Какие научные исследования проводил этот путешественник? _____

Напишите названия географических объектов, обозначенных цифрами на карте:

- 1 – о. Шпицберген 15 5 – Белое море 10
 2 – о. Новая земля 15 6 – Южный п-ов 15
 3 – Скандинавский п-ов 15 7 – _____
 4 – Колыский п-ов 15

Какими ресурсами обладают моря Северного Ледовитого океана? _____

Как они используются? _____

Задание 3. Заполните таблицу в соответствии с признаками, характерными для каждой природной зоны (12 баллов)

Природная зона	Климатический пояс	Почвы	Растительность (3 представителя)	Животный мир (3 представителя)
Тундра 15	Умеренный	Подзолистые	Сосна, ель, пихта, болотная растительность	медведь, лось, волк. 25

Школьный этап всероссийской олимпиады школьников по географии
в Томской области в 2024-2025 учебном году

ШИФР _____

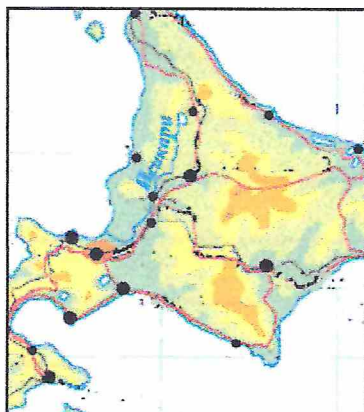
Тундра	Субарктический	карликовая берёза, лишайники, морошка, 15	Северный олень, песец, лемминг
Степь	Умеренный	Ковыль, типчак, мятлик	олень, кобылка, суслик, 15

Какие почвы обладают наибольшим плодородием? Чернозём 15

В какой из перечисленных природных зон средняя температура июля наибольшая?

Степь 15

Задание 4. По фрагменту карты определите физико-географический объект и ответьте на вопросы (20 баллов).



1. Определите физико-географический объект _____
2. Частью какого архипелага он является? _____
3. Каким океаном и морем омываются его берега? океан – _____, море – _____
4. Каким проливом отделяется от острова, расположенного севернее? _____
Как называется этот остров? _____
5. Назовите высшую точку архипелага _____
6. В какую геологическую эру образовался этот архипелаг? _____
7. В пределах какого климатического пояса находится эта территория? _____
8. Какой тип климата преобладает на архипелаге? _____
9. Какие представители животного мира более южной природной зоны обитают на территории острова и почему? _____

10. Какой стране принадлежит территория острова? Назовите ее столицу. страна – _____, столица _____
11. Коренной народ, проживающий на этой территории _____
12. Как звали средневекового европейского путешественника, который первый рассказал об этой стране? Как называется эта книга? _____
